



## ANUNCIO PRUEBAS DE SELECCIÓN DE PERSONAL

### CONVOCATORIA N° 29

#### ANUNCIO N° 1

**PLAZAS: UNA (1) PLAZA DE OFICIAL/A DE SEÑALIZACIÓN**

**TURNO: PROMOCIÓN INTERNA.**

**ASUNTO: PUBLICACIÓN DE LA RELACIÓN DE ASPIRANTES QUE HAN SUPERADO EL PRIMER EJERCICIO, DE LA PLANTILLA DE CORRECCIÓN DE DICHA PRUEBA Y DÍA DE REVISIÓN.**

El Tribunal, por unanimidad, ha adoptado los siguientes acuerdos:

**Primero.-** Hacer pública la relación de aspirantes que **han superado** el ejercicio primero de los que consta la fase de oposición del presente proceso selectivo con las calificaciones obtenidas:

<b>N.º aspirante</b>	<b>Identificador</b>	<b>Apellidos y nombre</b>	<b>Puntuación</b>
1	***9904**	NAVARRO ANDREU, PABLO ANTONIO	5,17

**Segundo.** - Los aspirantes que lo deseen, pueden **revisar** su ejercicio compareciendo el próximo **jueves 9 de abril de 2026, de 9:00 a 9:30 horas en las dependencias municipales del Servicio de Tráfico, Transportes, Movilidad y Accesibilidad**, sito en la calle Arzobispo Loaces, n.º 13- 2ª planta, de esta ciudad.

**Tercero.-** Hacer pública la plantilla de corrección del ejercicio en anexo a este anuncio.

Lo que se hace público a los debidos efectos.

La secretaria del Tribunal,

Mª Luz García Muñoz  
(Documento firmado electrónicamente)

## ANEXO

### PLANTILLA DE CORRECCIÓN

**1. ¿Cuál es el principal objetivo del uso del EPI?**

- A) Cumplir con la normativa legal únicamente.
- B) Prevenir riesgos y proteger la salud del trabajador.**
- C) Mejorar la estética del uniforme laboral.
- D) Evitar que se ensucie la ropa de trabajo.

**2. ¿Cuál de los siguientes elementos es considerado EPI para un oficial de señalización en carretera?**

- A) Chaleco reflectante.**
- B) Reloj de pulsera.
- C) Gafas de sol de calle.
- D) Botas de cuero sin puntera.

**3. El casco de seguridad protege principalmente contra:**

- A) Golpes en la cabeza y proyecciones de objetos.**
- B) Cortes en las manos.
- C) La lluvia y el sol.
- D) Ruido ambiental intenso.

**4. ¿Cuál es el objetivo principal del uso de equipamientos de señalización en la vía pública?**

- A) Decorar la zona de trabajo.
- B) Facilitar el trabajo únicamente a los operarios.
- C) Garantizar la seguridad de trabajadores y usuarios de la vía.**
- D) Reducir el número de herramientas necesarias.


**5. ¿Qué aspecto es fundamental al utilizar maquinaria y herramientas en trabajos de señalización de la vía pública?**

- A) Usarlas sin formación previa.
- B) Priorizar la velocidad sobre la seguridad.
- C) Garantizar su correcto uso y mantenimiento para evitar accidentes.**
- D) Compartir las sin control entre operarios.



Código Seguro de Verificación:  
907de15e-8146-457b-af2c-fc158531f0e8  
Origen: Ciudadano  
Identificador documento: ES\_L01030149\_2026\_24929476  
Fecha de impresión: 02/04/2026 10:17:14  
Página 3 de 9

FIRMAS  
1.- MARIA LUZ GARCIA MUÑOZ, 02/04/2026 10:07



6. ¿Cuál de los siguientes materiales NO se utiliza habitualmente en los trabajos de señalización de un área peatonal?

- A) Vallas móviles de contención.
- B) Señales de prohibido aparcas.**
- C) Cinta de balizamiento.
- D) Bridas de nailon.

7. ¿Cuál de las siguientes señales se emplea para indicar el sentido obligatorio que deben seguir los vehículos?

- A) R-400a.**
- B) P-29.
- C) S-13.
- D) P-22.

8. Si en un plano entregado de señalización de los trabajos para realizar un acto festivo, indica que una señal debe colocarse a 50 decímetros (dm) del borde de la calzada, ¿a cuántos metros equivale?

- A) 0,50 metros.
- B) 500 metros.
- C) 5 metros.**
- D) 50 metros.

9. Una señal vertical tiene una superficie de 0,36 metros cuadrados (m<sup>2</sup>). ¿A cuántos centímetros cuadrados (cm<sup>2</sup>) equivale?

- A) 3,60 cm<sup>2</sup>.
- B) 360 cm<sup>2</sup>.
- C) 3.600 cm<sup>2</sup>.**
- D) Ninguna de las respuestas es correcta.

10. Un operario debe calcular las vallas que son necesarias para realizar un cerramiento rectangular para una zona restringida de un acto deportivo, con una longitud de cerramiento de 20 metros de largo y 8 metros de ancho. Si las vallas que se disponen tienen un largo de 2,00 metros. ¿Cuántas vallas son necesarias?

- A) 30 vallas.
- B) 28 vallas.**
- C) 26 vallas.
- D) 35 vallas.

Código Seguro de Verificación:  
907de15e-8146-457b-af2c-fc158531f0e8  
Origen: Ciudadano  
Identificador documento: ES\_L01030149\_2026\_24929476  
Fecha de impresión: 02/04/2026 10:17:14  
Página 4 de 9

FIRMAS  
1.- MARIA LUZ GARCIA MUÑOZ, 02/04/2026 10:07



11. De las siguientes escalas, ¿qué escala se considera como “natural”?

- A) Escala 1:100.
- B) Escala 10:1.
- C) Escala 1:1.**
- D) Escala 0:1.

12. ¿ Qué vista de un plano nos indica la altura a la que debe quedar el borde inferior de una señal vertical, respecto al suelo y que también muestra la altura total de la señal vertical?

- A) La leyenda.
- B) El alzado o perfil.**
- C) La planta.
- D) El plano de situación.

13. Atendiendo a su funcionalidad, ¿cuál de los siguientes tipos de señales NO se recogen en el catálogo de señales verticales de circulación?

- A) Señales de advertencia de peligro.
- B) Señales de reglamentación.
- C) Señales de indicación.
- D) Señales de intención.**

14. Según recoge la Norma 8.1-IC ¿Cuál de los siguientes NO es un principio básico de la buena señalización?

- A) Claridad.
- B) Uniformidad.
- C) Teleoperatividad.**
- D) Sencillez.

15. Una señal de forma triangular designada con una letra “P” seguida de un número es una señal de...

- A) Indicación.
- B) Advertencia de peligro.**
- C) Prioridad.
- D) Intención.

Código Seguro de Verificación:  
907de15e-8146-457b-af2c-fc158531f0e8  
Origen: Ciudadano  
Identificador documento: ES\_L01030149\_2026\_24929476  
Fecha de impresión: 02/04/2026 10:17:14  
Página 5 de 9

FIRMAS  
1.- MARIA LUZ GARCIA MUÑOZ, 02/04/2026 10:07



**16. Todos los carteles del SISTHO tendrán...**

- A) Fondo de color azul y orla y texto de color blanco.
- B) Fondo de color azul y orla y texto de color negro.
- C) Fondo de color marrón y orla y texto de color blanco.**
- D) Fondo de color marrón y orla y texto de color negro.

**17. ¿Cuál de los siguientes NO es un pictograma genérico de SISTHO?**

- A) Cultura.
- B) Sol y playa.
- C) Naturaleza.
- D) Historia.**

**18. Según recoge el SISTHO, en zona urbana, si la señal o cartel se situase sobre aceras o zonas destinadas a la circulación de peatones, la diferencia de cota entre el borde inferior de la señal o cartel y dicha acera o zona no será inferior a:**

- A) 0,60 m.
- B) 1,20 m.
- C) 2,20 m.**
- D) 3,20 m.

**19. Según recoge el apartado 700 del PG-3, una marca vial sonora es...**


- A) Marca vial con resaltes que produce efectos sonoros y mecánicos (vibraciones).**
- B) Banda sonora asociada normalmente a una película o documental.
- C) Elemento de contención de vehículos.
- D) Pintura siseante que entra en funcionamiento ante la salida involuntaria de un vehículo de la vía.

**20. Según el apartado 700 del PG-3, aquellas marcas viales en forma de láminas o cintas, cuya aplicación sobre el pavimento se realiza por medio de un adhesivo, imprimación, presión, calor o combinaciones de ellos se denominan...**

- A) Marca vial anacrónica.
- B) Marca vial prefabricada.**
- C) Marca vial espacial.
- D) Marca vial in situ.

Código Seguro de Verificación:  
907de15e-8146-457b-af2c-fc158531f0e8  
Origen: Ciudadano  
Identificador documento: ES\_L01030149\_2026\_24929476  
Fecha de impresión: 02/04/2026 10:17:14  
Página 6 de 9

FIRMAS  
1.- MARIA LUZ GARCIA MUÑOZ, 02/04/2026 10:07



**21. ¿Cuál de las siguientes funciones de las marcas viales NO viene recogida en la Norma 8.2-IC?**

- A) Delimitar carriles de circulación.
- B) Separar sentidos de circulación.
- C) Indicar el borde de la calzada.
- D) Servir de guía para personas invidentes.**

**22. El color amarillo de una marca vial se utiliza para...**

- A) Indicar prohibiciones o restricciones.**
- B) Delimitar una zona de estacionamiento.
- C) Flechas y símbolos.
- D) Separación de carriles de circulación en días festivos.

**23. Según la norma 8.2-IC la línea de detención es:**

- A) Una marca transversal.**
- B) Una marca longitudinal continua.
- C) Una marca longitudinal discontinua.
- D) Una marca longitudinal continua adosada a discontinua.

**24. Una señal triangular con borde rojo y fondo amarillo con dos flechas paralelas, una apuntando hacia arriba y la otra apuntando hacia abajo (TP-25) significa:**


- A) Peligro en la parte superior e inferior. Obras.
- B) Circulación en dos sentidos. Obras.**
- C) Carriles reversibles. Obras.
- D) Pendiente peligrosa de subida o bajada. Obras.

**25. Conforme a la normativa de accesibilidad en el medio urbano: Orden TMA/851/2021, de 23 de julio, el pavimento accesible debe de ser:**

- A) Blando.
- B) Irregular.
- C) Antideslizante.**
- D) Ninguna de las respuestas es correcta.

Código Seguro de Verificación:  
907de15e-8146-457b-af2c-fc158531f0e8  
Origen: Ciudadano  
Identificador documento: ES\_L01030149\_2026\_24929476  
Fecha de impresión: 02/04/2026 10:17:14  
Página 7 de 9

FIRMAS  
1.- MARIA LUZ GARCIA MUÑOZ, 02/04/2026 10:07



**26. Puede decir, de las siguientes respuestas, cuál es el objetivo principal de la Orden TMA/851/2021, de 23 de julio, de accesibilidad al medio urbano:**

- A) Regular el tráfico urbano en los municipios.
- B) Regular el transporte público en los municipios.
- C) Regular la normativa existente en la edificación privada.
- D) Establecer las condiciones básicas de accesibilidad en espacios urbanizados.**

**27. Dentro de la organización administrativa del Ayuntamiento de Alicante y de las siguientes respuestas, cuál se encuentra incluida en el Servicio de Infraestructuras y Mantenimiento:**

- A) Departamento Técnico de Microinformática.
- B) Departamento de Inspección Laboral.
- C) Departamento Técnico de Alumbrado.**
- D) Departamento de Recaudación, Planificación Financiera y Caja.

**28. De entre las siguientes competencias del Ayuntamiento de Alicante, ¿cuál es del Servicio de Infraestructuras y Mantenimiento?**

- A) La planificación, coordinación y ejecución de las actuaciones de planeamiento urbanístico de la ciudad.
- B) La dirección, coordinación, planificación, programación y control de actividades y tareas asignadas al personal adscrito a la Intervención General.
- C) Señalización no viaria de actos eventuales, festeros, deportivos, desprendimientos, carteles, etc.**
- D) Ninguna de las respuestas es correcta.

**29. ¿Cuál de los siguientes trabajos NO son competencia del Servicio de Infraestructuras y Mantenimiento?**

- A) Gestión del parque móvil municipal, unidad a quién corresponde el mantenimiento de los vehículos municipales y el control de los contratos suscritos al respecto.
- B) El mantenimiento ordinario de los centros escolares municipales en lo que se refiere a fontanería, pintura, albañilería, carpintería y cerrajería y su limpieza mediante el control del contrato y gestión de la brigada de limpiadoras (si los hubiera)
- C) El mantenimiento ordinario del alumbrado público y de las instalaciones eléctricas en los centros escolares, dependencias municipales e instalaciones deportivas.
- D) La elaboración y confección de las nóminas de todos los empleados municipales y miembros de la corporación y su validación.**

Código Seguro de Verificación:  
907de15e-8146-457b-af2c-fc158531f0e8  
Origen: Ciudadano  
Identificador documento: ES\_L01030149\_2026\_24929476  
Fecha de impresión: 02/04/2026 10:17:14  
Página 8 de 9

FIRMAS  
1.- MARIA LUZ GARCIA MUÑOZ, 02/04/2026 10:07



### 30. Dentro de los objetivos principales y fundamentales del Servicio de Infraestructuras y Mantenimiento, ¿cuál es la respuesta correcta?

A) Tiene entre sus objetivos, la conservación y mantenimiento de todas las dependencias municipales, la limpieza de las mismas, la conservación de los vehículos del parque móvil municipal, la señalización provisional, tanto para actos festivos como situaciones de emergencia o provisionales y las infraestructuras para actos culturales, deportivos y festivos, todo ello a través de las brigadas municipales, de la recaudación de impuestos, la regulación del tráfico urbano, recaudación de sanciones impuestas, gestión del patrimonio municipal, ejecución de planeamiento urbanísticos aprobados.

**B) Tiene entre sus objetivos, la conservación y mantenimiento de todas las dependencias municipales, la limpieza de las mismas, la conservación de los vehículos del parque móvil municipal, la señalización provisional, tanto para actos festivos como situaciones de emergencia o provisionales y las infraestructuras para actos culturales, deportivos y festivos, todo ello a través de las brigadas municipales. También se ocupa de la gestión del Cementerio Municipal y de la Plaza de Toros, incluyendo el Museo Taurino.**

C) Tiene entre sus objetivos, la conservación y mantenimiento de todas las dependencias municipales, la limpieza de las mismas, la conservación de los vehículos del parque móvil municipal, la señalización provisional, tanto para actos festivos como situaciones de emergencia o provisionales y las infraestructuras para actos culturales, deportivos y festivos, todo ello a través de las brigadas municipales, de la recaudación de impuestos, la regulación del tráfico urbano, recaudación de sanciones impuestas, gestión del patrimonio municipal, ejecución de planeamiento urbanísticos, ejecución de obra de urbanización, gestión de expedientes sancionadores urbanísticos, otorgación de licencias en la vía pública.

D) Las respuestas a y b son correctas.

Código Seguro de Verificación:  
907de15e-8146-457b-af2c-fc158531f0e8  
Origen: Ciudadano  
Identificador documento: ES\_L01030149\_2026\_24929476  
Fecha de impresión: 02/04/2026 10:17:14  
Página 9 de 9

FIRMAS  
1.- MARIA LUZ GARCIA MUÑOZ, 02/04/2026 10:07

## PREGUNTAS DE RESERVA

### 1. En relación con la selección de equipos para trabajos de señalización en la vía pública, señala la afirmación CORRECTA:

- A) La elección de equipos puede basarse principalmente en la disponibilidad en almacén, sin necesidad de adaptarlos a las condiciones específicas de la vía o del tráfico.
- B) Los equipos destinados a la señalización deben centrarse únicamente en la ejecución del trabajo, sin considerar su función de advertencia o protección frente a terceros.
- C) La selección de equipos debe integrar herramientas de instalación, elementos de señalización visibles y dispositivos de protección, asegurando su adecuación al entorno de trabajo y a los riesgos existentes.**
- D) El uso de equipos de señalización es opcional en intervenciones de corta duración si el operario mantiene vigilancia constante del entorno.

### 2. Conforme a la Orden TMA/851/2021, de 23 de julio, y de accesibilidad al medio urbano, el itinerario peatonal accesible, debe de tener primordial y fundamentalmente:

- A) Obstáculos.
- B) Anchura suficiente.**
- C) Escaleras obligatorias.
- D) Bordillos altos.

### 3. De la señalización y balizamiento de las ocupaciones de las vías públicas por realización de obras y trabajos, las vallas de protección peatonal que se utilicen podrán ser:

- A) Valla de protección y contención modelo Gran Vía, no tendrán una altura inferior a 1,00 metro, ni una longitud menor de 2,00 metros.
- B) Valla metálica de protección y prohibición de paso de altura 1,00 metro y una longitud de 2,50 metros.**
- C) Valla de protección y contención modelo Gran Vía, no tendrán una altura inferior a 1,25 metros, ni una longitud menor de 4,40 metros.
- D) Ninguna de las respuestas es correcta.

-----

